

**ШКОЛЬНЫЙ ЭТАП ВСЕРОССИЙСКОЙ ОЛИМПИАДЫ ШКОЛЬНИКОВ
ПО ИСТОРИИ
7 КЛАСС.
2021-2022 УЧЕБНЫЙ ГОД**

Время на выполнение заданий – 90 минут.

Общая сумма баллов – 100

Номер задания	1	2	3	4	5	6	7	8	9	10
Максимальный балл	12	12	8	12	10	9	10	10	9	8

Задание № 1. По какому принципу образованы ряды? (2 балла за каждое верное объяснение; максимальный балл – 12 баллов)

1.1. Какое из перечисленных сооружений построено в эпоху «Каролингского возрождения»?

- 1) Собор святого Петра в Риме
- 2) Палатинская капелла в Ахене
- 3) Собор святого Стефана в Вене
- 4) Собор Парижской Богоматери

1.2. Прочитайте отрывок из летописной повести и укажите имя князя, о котором рассказывает летописец.

«И, соединившись со всеми князьями русскими и со всеми силами, вскоре выступил против них из Москвы, чтобы защитить свою отчину. И пришел в Коломну, собрал воинов своих сто тысяч и сто, помимо князей и воевод местных. От начала мира не бывало такой силы русской – князей русских, как при этом князе. А всех сил и всех ратей числом в полтораста тысяч или двести. К тому же еще подоспели в тот ратный час издали великие князья Ольгердовичи поклониться и послужить: князь Андрей Полоцкий с псковичами и брат его – князь Дмитрий Брянский со всеми своими мужами».

- 1) Юрий Данилович
- 2) Иван Калита
- 3) Дмитрий Донской
- 4) Василий III

1.3. Как называется документ, отрывок из которого представлен ниже?

«Убьет муж мужа, то мстит брат за брата, или сын за отца, или сын брата или сын сестры; если не будет кто мстить, то 40 гривен за убитого. Если убитый – русин, или гридин, или купец, или ябедник, или мечник, или же изгой, или словенин, то 40 гривен уплатить за него...»

- 1) «Русская Правда»
- 2) «Домострой»
- 3) «Изборник» Святослава
- 4) Судебник 1497г.

1.4. Прочитайте отрывок из описания историком одного из городов Древней Руси и укажите данный город:

«Сей северорусский город имел развитую торговлю с Ганзой, в нём имелись специально построенные гостиные дворы для немецких и скандинавских купцов... Не раз город подвергался угрозе захвата, однако, даже полчища Батыя не решились осадить его...»

- 1) Вятка
- 2) Торжок
- 3) Новгород
- 4) Ярославль

1.5. В каком городе правил князь, о котором идёт речь в отрывке?

«Блаженный, приснопамятный и боголюбивый великий князь Михаил был сыном великого князя Ярослава, внуком же великого князя блаженного Ярослава Всеволодича, скончавшегося тяжкою смертью в Орде за христиан. Родился же он от блаженной, воистину преподобной матери, великой княгини Ксении; и воспитала его святая та и премудрая мать в страхе Господнем и научила святым книгам и всякой премудрости».

- 1) Москва
- 2) Нижний Новгород
- 3) Тверь
- 4) Суздаль

1.6. Прочитайте отрывок из труда арабского географа Ибн Русте. Определите, к какому хронологическому периоду относится данное описание.

«Булгар граничит с страной Буртас. Живут Булгаре на берегах реки, которая впадает в Хазарское море и прозывается Итиль, протекая между странами Хазар и Славян. Царь Булгар, Альмуш по имени, исповедует ислам».

- 1) III–IV вв.
- 2) V–VII вв.
- 3) IX–X вв.
- 4) XII–XIII вв.

Ответы

1.1	1.2	1.3	1.4	1.5	1.6

Задание № 2. Выберите несколько верных ответов из предложенных. Ответы внесите в таблицу. (По 3 балла за полностью верный ответ, по 1 баллу за каждый верный элемент ответа. Максимальный балл- 12 баллов)

2.1. Какие из исторических деятелей были современниками Ивана Калиты?

- 1) Михаил Тверской
- 2) Юрий Долгорукий
- 3) Евпатий Коловрат
- 4) Андрей Боголюбский
- 5) Узбек
- 6) Юрий Данилович

2.2. Какие из представленных ниже категорий населения, перечисленных в «Русской правде», относятся к зависимым?

- 1) закуп
- 2) рядович
- 3) огнищанин
- 4) холоп
- 5) волхв
- 6) дружинник

2.3. Прочитайте отрывок и выберите из списка соборы, соответствующие описанию советского историка архитектуры.

«Уже издали над морем крыш городских домов виден собор, вознесший к небу свои башни. Первоначально трудно разобратся в сложной композиции открывающегося нам фасада собора, поражающего обилием деталей, искусно вытесанных из камня. Здесь и огромные стрельчатые порталы, похожие на ниши, скомпонованные так, что невольно хочется войти в собор, и огромное круглое окно-роза над ними, и прозрачные галереи, и высокие вытянутые вверх окна».

- 1) Собор Парижской Богоматери

- 2) Собор Святой Софии в Киеве
- 3) Собор Святой Софии в Константинополе
- 4) Реймский собор
- 5) Кёльнский собор
- 6) Собор святого Петра в Риме

2.4. Какие из представленных ниже городов были столицами русских княжеств в период политической раздробленности?

- 1) Можайск
- 2) Новгород-Северский
- 3) Изборск
- 4) Любеч
- 5) Муром
- 6) Искоростень

2.1	2.2	2.3	2.4

Задание 3. По какому историческому критерию образованы ряды (2 балла за каждый правильный ответ, максимальный балл – 8 балла).

3.1. Финифть, зернь, чернь, скань.

3.2. 907 г., 911 г., 944 г., 971 г.

3.3. Святополк Окаянный, Борис Ростовский, Ярослав Мудрый, Глеб Муромский.

3.4. Ногата, Гривна, Векша, Куна

Задание 4. Дайте краткое обоснование ряда (что объединяет перечисленные элементы с исторической точки зрения) и укажите, какой из элементов является лишним по данному основанию (2 балл за обоснование ряда и 1 балл за лишний элемент, максимальный балл – 12 баллов).

4.1. 1223 г., 1237–1238 гг., 1240–1241 гг., 1245–1246 гг.

4.2. А) Галич; Б) Углич; В) Белоозеро; Г) Нижний Новгород.

4.3. Апсида, закомара, купол, нервюры

4.4. Дмитрий Донской, Дмитрий Боброк, Андрей Ольгердович, Батый

Задание 5. Установите соответствия. Запишите в таблицу выбранные цифры под соответствующими буквами. В перечне справа есть лишняя характеристика (по 1 балла за каждое соответствие, максимальный балл – 10 баллов)

5.1. Установите соответствия события и современника. Запишите в таблицу выбранные цифры под соответствующими буквами.

	Событие		Современник
А	Битва на Калке	1	Владимир Мономах
Б	Образование Древнерусского государства	2	Мстислав Удалой
В	Присоединение Твери	3	Игорь Старый
Г	Основание города Юрьева	4	Вещий Олег
Д	Разгром половцев	5	Иван Третий
		6	Ярослав Мудрый

Ответ:

А	Б	В	Г	Д

5.2. Установите соответствие между предметами и их определениями. Запишите в таблицу выбранные цифры под соответствующими буквами.

	Термины		Определения
А	гусли	1	кичка
Б	женский головной убор	2	мягкая, специальной выделки козья или овечья кожа яркого цвета
В	пенька	3	предмет, оберегающий владельца от бедствий
Г	амулет	4	волокно, сделанное из стеблей конопли
Д	пергамен	5	старинный струнный щипковый музыкальный инструмент
		6	сосуд из бересты, используемый для хранения различных продуктов

Ответ

А	Б	В	Г	Д

Задание 6. Перед вами перечень событий, произошедших в правление трёх российских князей. Запишите их имена, как правителей, которые используются в исторической и учебной литературе, в таблицу в хронологическом порядке их правления. Под именами правителей поставьте номера событий, произошедших в их правление. (по 1 баллу за каждый верный ответ, максимальный балл – 9 баллов)

- 1) Восстание в Твери
- 2) Невская битва
- 3) Языческая реформа
- 4) Переезд митрополита в Москву
- 5) Неврюева рать
- 6) Начало чеканки монеты на Руси

Ответ:

Имя правителя	Александр Невский	Иван Калита	Владимир Святой
События			

Задание 7. Определите хронологический порядок событий. Запишите буквенные обозначения событий в хронологическом порядке в приведенную таблицу (по 5 баллов за правильную хронологию, максимальный балл – 10 баллов).

7.1.

- А) битва на реке Калке
- Б) поход Неврюевой рати на Русь
- В) крещение Руси
- Г) раскол христианской церкви на римско-католическую и православную
- Д) восстание древлян

Ответ

1	2	3	4	5

7.2.

- А) битва на реке Сити
- Б) первое летописное упоминание о Москве
- В) строительство Софийского Собора в Киеве
- Г) Любечский съезд
- Д) подписание «Великой Хартии вольностей»

Ответ

1	2	3	4	5

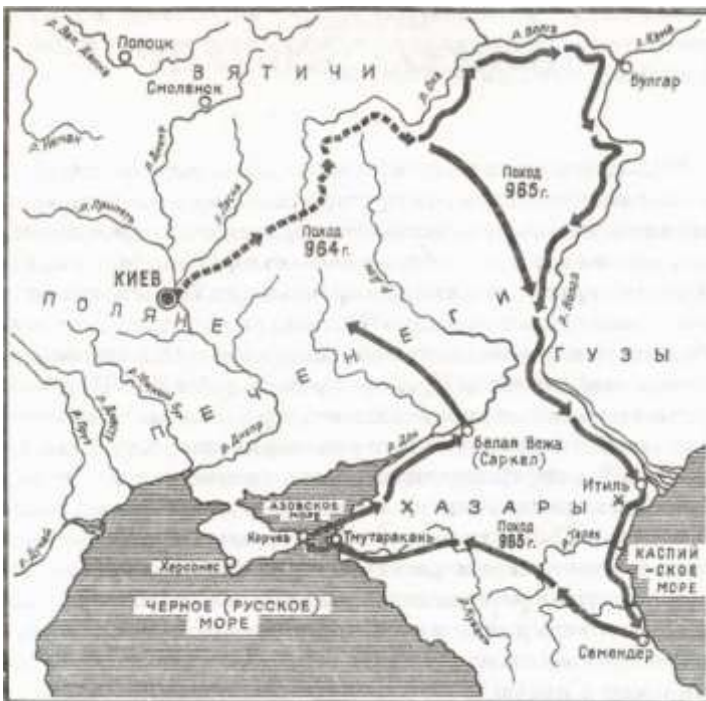
Задание 8. Перед Вами четыре пронумерованных изображения и карта. Выполните задания к ним (По 1 баллу за каждое верно названное имя и каждый правильный ответ на вопросы. Максимальный балл – 10)

1		2	
---	---	---	--

3



4



1. Определите, кто изображен на каждом портрете. (4 балла)

1. _____
2. _____
3. _____
4. _____

2. Укажите порядковый номер изображения человека, возглавившего поход, карта которого помещена ниже. (1 балл)

3. Какое значение имел данный поход? (1 балл)

4. Куда был направлен последний поход полководца (2 балла)

5. Чем закончился этот поход (2 балла)

Задание 9. Заполните пронумерованные пропуски в тексте. Вставляемые понятия (имена, даты, термины) занесите под соответствующими порядковыми номерами в таблицу (1 балл за каждый правильный ответ, максимальный балл – 9 баллов).

В 1 году началось вторжение монгольских сил на территорию Руси. Войска хана 2 (имя) покорили 3 (княжество), а затем вторглись на территорию Суздальской земли. Несмотря на то, что здесь 2 (имя) встретил самое упорное сопротивление за всё время военных походов на Руси, многие города были разорены, а владимирский князь 4 (имя) погиб в битве на реке 5 (название) весной 6 года. ... повернули в сторону города 7 (название), однако до самого города они не дошли и, разорив Торжок, вернулись в степи. В 8 году монгольские войска двинулись на территории Южной Руси. В кратчайшие сроки был взят 9 (город), разорены Галицкая и Волынская земли. После этого ... войска огнём и мечом прошли по ряду европейских стран и, как полагают исследователи, лишь известие о смерти хана Угедея заставило 2 (имя) прекратить поход и повернуть назад





Ответ:

<u>№</u>	Понятия, даты, термины, имена
1	
2	
3	
4	
5	
6	
7	
8	
9	

Задание 10.

Перед Вами изображения знаменитых памятников русской архитектуры до конца XV века. Заполните таблицу: во вторую колонку таблицы запишите название изображённого архитектурного памятника, в третью колонку таблицы запишите имя правителя (князя), при котором

соответствующий памятник был создан. (По 1 баллу за каждый верный элемент ответа. Всего за задание 8 баллов)

А		Б	
В		Г	

Ответ

Буквенное обозначение архитектурных памятников	Название	Имя правителя
А		
Б		
В		
Г		